

WYPEŁNIA UCZEŃ

KOD UCZNIĄ

--	--	--

PESEL

--	--	--	--	--	--	--	--	--	--	--	--

miejsce
na naklejkę



Egzamin ósmoklasisty Matematyka

DATA: **19 grudnia 2018 r.**

GODZINA ROZPOCZĘCIA: **9:00**

CZAS PRACY: **100 minut**

Instrukcja dla ucznia

1. Sprawdź, czy na kolejno ponumerowanych **22 stronach** jest wydrukowanych **21 zadań**.
2. Sprawdź, czy do arkusza jest dołączona karta odpowiedzi.
3. Ewentualny brak stron lub inne usterki zgłoś nauczycielowi.
4. Na tej stronie i na karcie odpowiedzi wpisz swój kod, numer PESEL i przyklej naklejkę z kodem.
5. Czytaj uważnie wszystkie teksty i zadania. Wykonuj zadania zgodnie z poleceniami.
6. Rozwiązania zadań zapisuj długopisem lub piórem z czarnym tuszem/atramentem.
7. Nie używaj korektora.
8. Rozwiązania zadań **zamkniętych**, tj. **1–15**, zaznacz na karcie odpowiedzi zgodnie z instrukcją zamieszczoną na następnej stronie. W każdym zadaniu poprawna jest zawsze **tylko jedna** odpowiedź.
9. Rozwiązania zadań **otwartych**, tj. **16–21**, zapisz czytelnie i starannie w wyznaczonych miejscach w arkuszu egzaminacyjnym. Ewentualne poprawki w odpowiedziach zapisz zgodnie z instrukcjami zamieszczonymi na następnej stronie.
10. Zapisy w brudnopisie nie będą sprawdzane i oceniane.

Powodzenia!

WYPEŁNIA ZESPÓŁ NADZORUJĄCY

Uprawnienia
ucznia do:

dostosowania
zasad oceniania.

nieprzenoszenia
odpowiedzi na kartę.

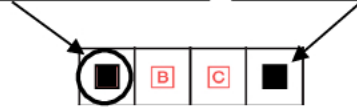


OMAP-**100**-1812

Zapoznaj się z poniższymi informacjami

1. Jak na karcie odpowiedzi zaznaczyć poprawną odpowiedź oraz pomyłkę w zadaniach zamkniętych?

Staraj się nie popełniać błędów przy zaznaczaniu odpowiedzi, ale jeśli się pomylisz, błędne zaznaczenie otocz kółkiem i zaznacz inną odpowiedź, np.



Poprawna odpowiedź w zadaniu	Układ możliwych odpowiedzi na karcie odpowiedzi	Sposób zaznaczenia poprawnej odpowiedzi	Sposób zaznaczenia pomyłki i poprawnej odpowiedzi
C	<input type="checkbox"/> A <input type="checkbox"/> B <input type="checkbox"/> C <input type="checkbox"/> D	<input type="checkbox"/> A <input type="checkbox"/> B <input checked="" type="checkbox"/> C <input type="checkbox"/> D	<input checked="" type="checkbox"/> A <input type="checkbox"/> B <input checked="" type="checkbox"/> C <input type="checkbox"/> D
AD	<input type="checkbox"/> AC <input type="checkbox"/> AD <input type="checkbox"/> BC <input type="checkbox"/> BD	<input type="checkbox"/> AC <input checked="" type="checkbox"/> AD <input type="checkbox"/> BC <input type="checkbox"/> BD	<input type="checkbox"/> AC <input checked="" type="checkbox"/> AD <input type="checkbox"/> BC <input checked="" type="checkbox"/> BD
FP	<input type="checkbox"/> PP <input type="checkbox"/> PF <input type="checkbox"/> FP <input type="checkbox"/> FF	<input type="checkbox"/> PP <input type="checkbox"/> PF <input checked="" type="checkbox"/> FP <input type="checkbox"/> FF	<input type="checkbox"/> PP <input checked="" type="checkbox"/> PF <input checked="" type="checkbox"/> FP <input type="checkbox"/> FF
A3	<input type="checkbox"/> A1 <input type="checkbox"/> A2 <input type="checkbox"/> A3 <input type="checkbox"/> B1 <input type="checkbox"/> B2 <input type="checkbox"/> B3	<input type="checkbox"/> A1 <input type="checkbox"/> A2 <input checked="" type="checkbox"/> A3 <input type="checkbox"/> B1 <input type="checkbox"/> B2 <input type="checkbox"/> B3	<input type="checkbox"/> A1 <input type="checkbox"/> A2 <input checked="" type="checkbox"/> A3 <input type="checkbox"/> B1 <input checked="" type="checkbox"/> B2 <input type="checkbox"/> B3

2. Jak zaznaczyć pomyłkę i zapisać poprawną odpowiedź w zadaniach otwartych?

Jeśli się pomylisz, zapisując odpowiedź w zadaniu otwartym, pomyłkę przekreśl i napisz poprawną odpowiedź

nad niepoprawnym fragmentem

64 cm²

Pole kwadratu jest równe ~~100 cm²~~.

lub obok niego

Pole kwadratu jest równe ~~100 cm²~~ 64 cm²

Zadania egzaminacyjne są wydrukowane na kolejnych stronach.

Zadanie 1. (0–1)

Firma przesyłkowa *Wielpak* korzysta z paczkomatów do samodzielnego nadawania i odbierania przesyłek przez klientów. Maksymalne wymiary prostopadłościennej paczki, którą można nadać za pośrednictwem tej firmy, wynoszą 38 cm × 41 cm × 64 cm, a masa przesyłki nie może być większa niż 25 kg.

W tabeli zapisano wymiary i masę czterech paczek.

Nr paczki	Wymiary	Masa
1	37 cm × 41 cm × 66 cm	23 kg
2	38 cm × 38 cm × 59 cm	25 kg
3	35 cm × 40 cm × 64 cm	26 kg
4	26 cm × 39 cm × 63 cm	22 kg

Które z tych paczek mogą być nadane przez paczkomat tej firmy? Wybierz właściwą odpowiedź spośród podanych.

- A. Tylko 1, 2 i 4. B. Tylko 2 i 3. C. Tylko 3 i 4. D. Tylko 2 i 4. E. Tylko 4.

Zadanie 2. (0–1)

Poniżej zamieszczono fragment etykiety z jogurtu o masie 150 g.

Wartość odżywcza	w 100 g
energia	290 kJ / 69 kcal
tłuszcz	3,0 g
w tym kwasy nasycone	1,9 g
węglowodany	5,9 g
w tym cukry	5,9 g
błonnik	0 g
białko	4,6 g
sól	0,15 g
wapń	167 mg*
witamina B2	0,25 mg*

* 1 mg = 0,001 g

Uzupełnij poniższe zdania. Wybierz odpowiedź spośród oznaczonych literami A i B oraz odpowiedź spośród oznaczonych literami C i D.

Zjedzenie całego jogurtu dostarcza organizmowi około wapnia.


- A. 167 mg B. 250 mg

Zjedzenie całego jogurtu dostarcza organizmowi razy więcej białka niż witaminy B2.

- C. 18,4 D. 18 400

PRZENIEŚ ROZWIĄZANIA ZADAŃ NA KARTĘ ODPOWIEDZI!

Brudnopis



Zadanie 3. (0–1)

Oceń prawdziwość podanych zdań. Wybierz P, jeśli zdanie jest prawdziwe, albo F – jeśli jest fałszywe.

120% liczby 180 to tyle samo, co 180% liczby 120.	P	F
20% liczby 36 to tyle samo, co 40% liczby 18.	P	F

Zadanie 4. (0–1)

Liczba x jest najmniejszą liczbą dodatnią podzielną przez 3 i 4, a liczba y jest największą liczbą dwucyfrową podzielną przez 2 i 9.

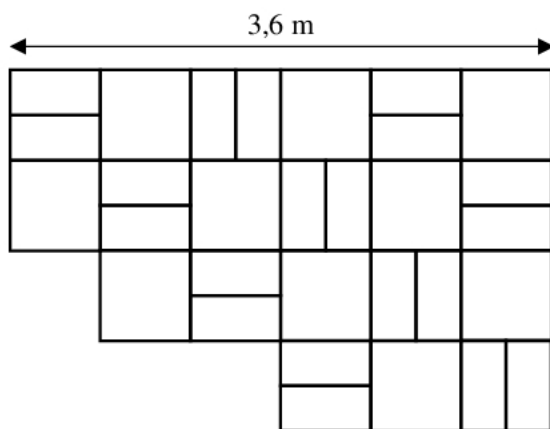
Dokończ zdanie. Wybierz właściwą odpowiedź spośród podanych.

Najmniejsza wspólna wielokrotność liczb x i y jest równa

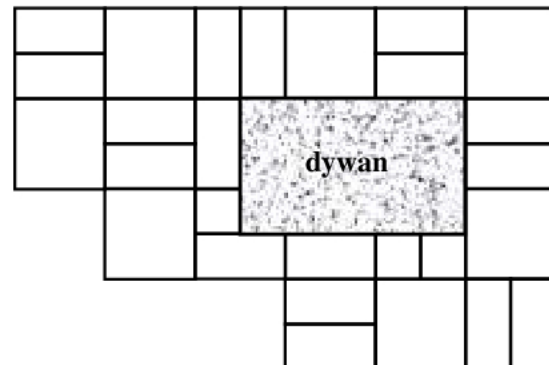
- A. 72 B. 108 C. 180 D. 216

Zadanie 5. (0–1)

Na rysunku przedstawiono fragment podłogi pokrytej kafłami w kształcie kwadratów o boku długości 60 cm i kafłami w kształcie jednakowych prostokątów (patrz rysunek I). Na podłodze tej położono prostokątny dywan (patrz rysunek II).



Rysunek I. Podłoga bez dywanu




Rysunek II. Podłoga z dywanem

Oceń prawdziwość podanych zdań. Wybierz P, jeśli zdanie jest prawdziwe, albo F – jeśli jest fałszywe.

Dywan ma powierzchnię większą niż powierzchnia 4 kwadratowych kafli.	P	F
Dywan ma wymiary 90 cm × 120 cm.	P	F

PRZENIEŚ ROZWIĄZANIA ZADAŃ NA KARTĘ ODPOWIEDZI!

Brudnopis



Zadanie 6. (0–1)

Prędkość rozchodzenia się impulsu elektrycznego u człowieka wynosi około 2 metrów na sekundę. U roślin impuls elektryczny może rozchodzić się z prędkością około 60 centymetrów na minutę.

Ile razy prędkość rozchodzenia się impulsu elektrycznego u człowieka jest większa od prędkości rozchodzenia się impulsu elektrycznego u roślin? Wybierz właściwą odpowiedź spośród podanych.

- A. W przybliżeniu 2 razy.
- B. W przybliżeniu 20 razy.
- C. W przybliżeniu 200 razy.
- D. W przybliżeniu 2000 razy.

Zadanie 7. (0–1)

Monika poprawnie zaokrągliła liczbę 3465 do pełnych setek i otrzymała liczbę x , a Paweł poprawnie zaokrąglił liczbę 3495 do pełnych tysięcy i otrzymał liczbę y .

Czy liczby x i y są równe? Wybierz odpowiedź A (Tak) albo B (Nie) i jej uzasadnienie spośród 1, 2 albo 3.

A.	Tak,	ponieważ	1.	początkowa liczba Moniki jest mniejsza od początkowej liczby Pawła.
			2.	cyfra tysięcy każdej z początkowych liczb jest taka sama.
B.	Nie,		3.	otrzymane zaokrąglenia różnią się o 500.

Zadanie 8. (0–1)

Dana jest liczba $a = 3\sqrt{2} - 4$.

Uzupełnij poniższe zdania. Wybierz odpowiedź spośród oznaczonych literami A i B oraz odpowiedź spośród oznaczonych literami C i D.

Liczba o 2 większa od liczby a jest równa

A	B
---	---


. A. $5\sqrt{2} - 4$ B. $3\sqrt{2} - 2$

Liczba 2 razy większa od liczby a jest równa

C	D
---	---

. C. $6\sqrt{4} - 8$ D. $6\sqrt{2} - 8$

Brudnopis



Zadanie 9. (0–1)

Państwo Nowakowie mają trzy córki i jednego syna. Średnia wieku wszystkich dzieci państwa Nowaków jest równa 10 lat, a średnia wieku wszystkich córek jest równa 8 lat.

Ile lat ma syn państwa Nowaków? Wybierz właściwą odpowiedź spośród podanych.

A. 9

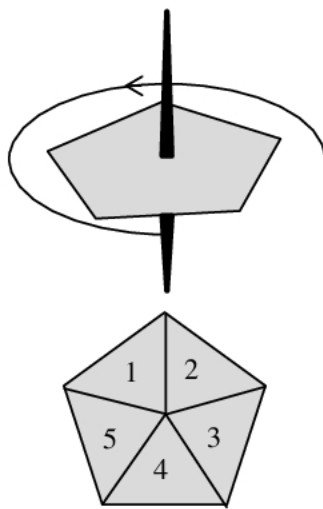
B. 11

C. 12

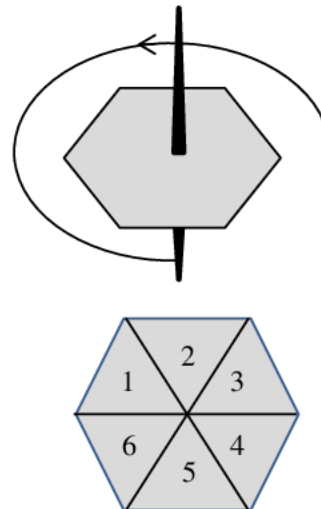
D. 16

Zadanie 10. (0–1)

Do gry planszowej używane są dwa bączki o kształtach przedstawionych na rysunkach. Każdy bączek po zatrzymaniu na jednym boku wielokąta wskazuje liczbę umieszczoną na jego tarczy. Na rysunku I bączek ma kształt pięciokąta foremnego z zaznaczonymi liczbami od 1 do 5. Na rysunku II bączek ma kształt sześciokąta foremnego z zaznaczonymi liczbami od 1 do 6.



Rysunek I




Rysunek II

Oceń prawdziwość podanych zdań. Wybierz P, jeśli zdanie jest prawdziwe, albo F – jeśli jest fałszywe.

Prawdopodobieństwo otrzymania liczby większej niż 3 na bączku z rysunku I jest większe niż $\frac{1}{2}$.	P	F
Uzyskanie nieparzystej liczby na bączku z rysunku I jest tak samo prawdopodobne, jak uzyskanie nieparzystej liczby na bączku z rysunku II.	P	F

PRZENIEŚ ROZWIĄZANIA ZADAŃ NA KARTĘ ODPOWIEDZI!

Brudnopis



Zadanie 11. (0–1)

O liczbie x wiemy, że $\frac{1}{3}$ tej liczby jest o $\frac{3}{4}$ większa od $\frac{1}{6}$ tej liczby.

Które równanie pozwoli wyznaczyć liczbę x ? Wybierz właściwą odpowiedź spośród podanych.

- A. $\frac{2}{3}x = \frac{1}{6}x + \frac{3}{4}$ B. $\frac{1}{3}x + \frac{3}{4} = \frac{5}{6}x$ C. $\frac{1}{3}x = \frac{1}{6}x + \frac{3}{4}$ D. $\frac{1}{3}x + \frac{3}{4} = \frac{1}{6}x$

Zadanie 12. (0–1)

W trójkącie ABC największą miarę ma kąt przy wierzchołku C . Miara kąta przy wierzchołku A jest równa 48° , a miara kąta przy wierzchołku B jest równa różnicy miary kąta przy wierzchołku C oraz miary kąta przy wierzchołku A .

Oceń prawdziwość podanych zdań. Wybierz P, jeśli zdanie jest prawdziwe, albo F – jeśli jest fałszywe.

Kąt przy wierzchołku B ma miarę 48° .	P	F
Trójkąt ABC jest prostokątny.	P	F


Zadanie 13. (0–1)

W układzie współrzędnych zaznaczono dwa punkty: $A = (-8, -4)$ i $P = (-2, 2)$. Punkt P jest środkiem odcinka AB .

Jakie współrzędne ma punkt B ? Wybierz właściwą odpowiedź spośród podanych.

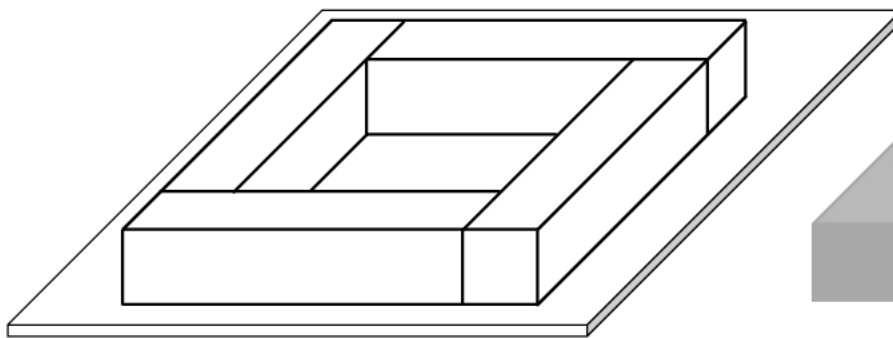
- A. $(4, 8)$ B. $(-10, -2)$ C. $(-10, 8)$ D. $(4, -2)$

Brudnopis

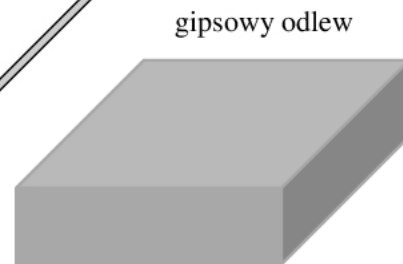


Zadanie 14. (0–1)

Cztery jednakowe drewniane elementy, każdy w kształcie prostopadłościanu o wymiarach $2\text{ cm} \times 2\text{ cm} \times 9\text{ cm}$, przyklejono do metalowej płytki w sposób pokazany na rysunku I.



Rysunek I



Rysunek II

W ten sposób przygotowano formę, którą wypełniono masą gipsową, i tak otrzymano gipsowy odlew w kształcie prostopadłościanu, pokazany na rysunku II.

Uzupełnij zdania. Wybierz odpowiedź spośród oznaczonych literami A i B oraz odpowiedź spośród oznaczonych literami C i D.

Objętość drewna, z którego zbudowano formę, jest równa

A	B
---	---

.

A. 144 cm^3 B. 36 cm^3

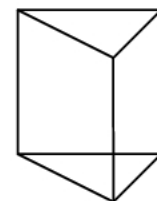
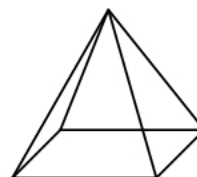
Objętość gipsowego odlewu jest równa

C	D
---	---

.

C. 162 cm^3 D. 98 cm^3 **Zadanie 15. (0–1)**

Na rysunkach przedstawiono ostrosłup prawidłowy i graniastosłup prawidłowy. Wszystkie krawędzie obu brył są jednakowej długości.




Oceń prawdziwość podanych zdań. Wybierz P, jeśli zdanie jest prawdziwe, albo F – jeśli jest fałszywe.

Suma długości wszystkich krawędzi ostrosłupa jest większa niż suma długości wszystkich krawędzi graniastosłupa.	P	F
Całkowite pole powierzchni ostrosłupa jest większe niż całkowite pole powierzchni graniastosłupa.	P	F


PRZENIEŚ ROZWIĄZANIA ZADAŃ NA KARTĘ ODPOWIEDZI!

Brudnopis



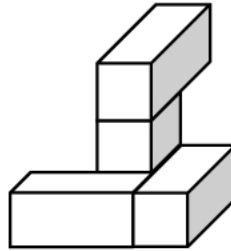
Zadanie 17. (0–2)

Na pozalekcyjne zajęcia sportowe zapisanych jest 37 osób. Uzasadnij, że w tej grupie są co najmniej 4 osoby, które urodziły się w tym samym miesiącu.



Zadanie 18. (0–2)


Cztery jednakowe prostokątne klocki, każdy o wymiarach $2\text{ cm} \times 1\text{ cm} \times 1\text{ cm}$, ułożono tak, jak przedstawiono na rysunku.



Następnie do tej budowli dołożono sześciennie klocki o krawędzi długości 1 cm tak, aby powstał prostopadłościan najmniejszy z możliwych.

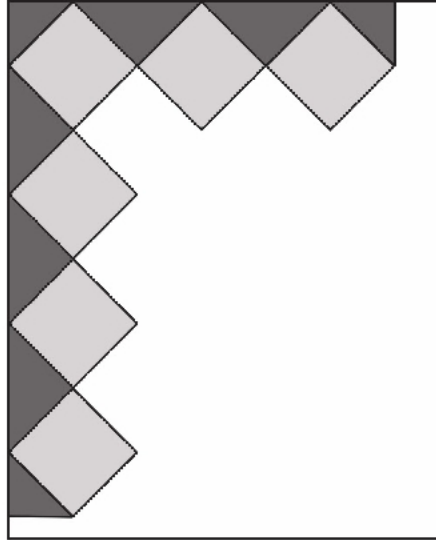
Uzupełnij zdania. Wpisz w każdą lukę odpowiednią liczbę.

Liczba sześciennych klocków o krawędzi długości 1 cm , które należy dołożyć do budowli, jest równa _____. Najmniejszy z możliwych prostopadłościanów, który w ten sposób otrzymano, ma wymiary ___ $\text{cm} \times$ ___ $\text{cm} \times$ ___ cm .




Zadanie 19. (0–3)


Agata postanowiła przygotować kartkę okolicznościową w kształcie prostokąta, ozdobioną wzorem dokładnie takim, jak przedstawiony na rysunku. Kartka ta będzie miała wymiary $15\text{ cm} \times 18\text{ cm}$. Do jej ozdobienia Agata chce użyć jednakowych kwadratów, których bok wyraża się całkowitą liczbą centymetrów. Niektóre z tych kwadratów będzie musiała przeciąć na dwie lub na cztery jednakowe części.



Oblicz maksymalną długość boku jednego kwadratu. Do obliczeń przyjmij przybliżenie $\sqrt{2} \approx 1,4$. Zapisz obliczenia.



Brudnopis





OMAP-100-1812

WYPEŁNIA ZESPÓŁ NADZORUJĄCY

Uprawnienia ucznia do:
dostosowania zasad oceniania nieprzeniesienia odpowiedzi na kartę

WYPEŁNIA UCZEŃ

KOD UCZNIKA

PESEL

miejsce
na naklejkę

Nr zad.	Odpowiedzi					
1	A	B	C	D	E	
2	AC	AD	BC	BD		
3	PP	PF	FP	FF		
4	A	B	C	D		
5	PP	PF	FP	FF		
6	A	B	C	D		
7	A1	A2	A3	B1	B2	B3
8	AC	AD	BC	BD		
9	A	B	C	D		
10	PP	PF	FP	FF		
11	A	B	C	D		
12	PP	PF	FP	FF		
13	A	B	C	D		
14	AC	AD	BC	BD		
15	PP	PF	FP	FF		

WYPEŁNIA EGZAMINATOR

Nr zad.	Punkty				
	NP	0	1	2	3
16	<input type="checkbox"/>	<input type="checkbox"/>	<input type="checkbox"/>	<input type="checkbox"/>	
17	<input type="checkbox"/>	<input type="checkbox"/>	<input type="checkbox"/>	<input type="checkbox"/>	
18	<input type="checkbox"/>	<input type="checkbox"/>	<input type="checkbox"/>	<input type="checkbox"/>	
19	<input type="checkbox"/>	<input type="checkbox"/>	<input type="checkbox"/>	<input type="checkbox"/>	<input type="checkbox"/>
20	<input type="checkbox"/>	<input type="checkbox"/>	<input type="checkbox"/>	<input type="checkbox"/>	<input type="checkbox"/>
21	<input type="checkbox"/>	<input type="checkbox"/>	<input type="checkbox"/>	<input type="checkbox"/>	<input type="checkbox"/>



--	--	--	--	--	--	--	--	--

KOD EGZAMINATORA

.....
Czytelny podpis egzaminatora